

达标测试卷

题号	一	二	三	四	五	六	七	八	总分
得分									

一、我会填一填。(7分)

- 在计算 $42-15\div3$ 时,应先算(除)法;在计算 $(21-12)\times8$ 时,应先算(减)法。
- 30 减去 20 除以 5 的商,求差是多少。列式是($30-20\div5$)。
- 有 40 个苹果,吃了 8 个,剩下的每 8 个放 1 盘,求可以放几盘。列式是($(40-8)\div8$)。

4.

面包	饼干	汽水	包子
2 元 / 个	5 元 / 包	3 元 / 瓶	1 元 / 个

- 买 5 个面包和 1 瓶汽水应付(13)元。
- 小文有 1 张 10 元钱和 1 张 5 元钱,这些钱能买(5)瓶汽水。
- 贝贝用 30 元钱先买了 5 个包子,余下的钱最多能买(5)包饼干。

二、在 里填上合适的数,并在横线上列出综合算式。(9分)

1. $\boxed{6} \times 7$

$42 + 28$

$\boxed{70}$

$6 \times 7 + 28 = 70$

2. $15 - \boxed{6}$

$36 \div 9$

$\boxed{4}$

$36 \div (15 - 6) = 4$

3. $\boxed{13} - 7$

6×4

$\boxed{24}$

$(13 - 7) \times 4 = 24$

三、我是小法官。(对的画“√”,错的画“×”并改正)(6分)

1. $27-2+18$ 改正:	2. $20+16\div4$ 改正:
$=27-20$	$=36\div4$
$=7$	$=20+4$
(×)	(×)

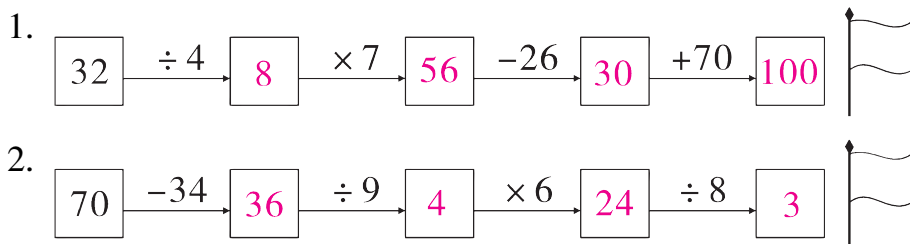
四、计算下面各题。(18分)



$8\times4+5$	$47+6\times7$	$90-6\times8$
$=32+5$	$=47+42$	$=90-48$
$=37$	$=89$	$=42$
$(16-9)\times2$	$(26+16)\div7$	$63\div(46-37)$
$=7\times2$	$=42\div7$	$=63\div9$
$=14$	$=6$	$=7$
$8\div(27-19)$	$20+7\times5$	$34+14\div7$
$=8\div8$	$=20+35$	$=34+2$
$=1$	$=55$	$=36$

五、在○里填上“>”“<”或“=”。(6分)

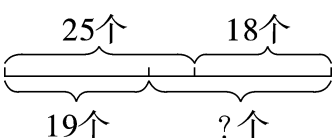
$2\times6+38$ ○ 50	$58-2\times8$ ○ 40
$24\div4\div2$ ○ $24\div8$	$40-24\div4$ ○ $(40-24)\div4$
$6\times(3+5)$ ○ 48	$60-25-15$ ○ $60-(25+15)$

六、夺小旗。(16分)

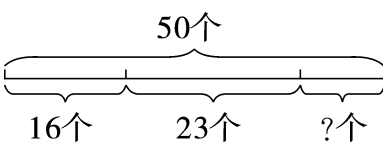


3. $\boxed{8} \xrightarrow{\times 9} \boxed{72} \xrightarrow{-23} \boxed{49} \xrightarrow{\div 7} \boxed{7} \xrightarrow{\times 9} \boxed{63}$ 
4. $\boxed{31} \xrightarrow{+23} \boxed{54} \xrightarrow{\div 6} \boxed{9} \xrightarrow{\times 4} \boxed{36} \xrightarrow{+64} \boxed{100}$ 

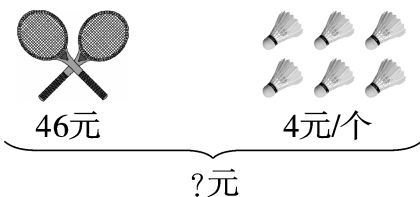
七、看图列式计算。(12 分)

1. 

$$\boxed{25} \oplus \boxed{18} \ominus \boxed{19} = \boxed{24} \text{ (个)}$$

2. 

$$\boxed{50} \ominus \boxed{16} \ominus \boxed{23} = \boxed{11} \text{ (个)}$$

3. 

$$\boxed{46} \oplus \boxed{4} \otimes \boxed{6} = \boxed{70} \text{ (元)}$$

八、解决问题。(26 分)

1. 一共能坐多少人? (4 分)

【答案】 $60+2\times 8=76$ (人)

答:一共能坐 76 人。



单人椅有60把。

双人椅有8把。



2. 把这些球分给 6 个班,平均每个班分几个球?(5 分)

【答案】 $(15+21)\div 6=6$ (个)

答:平均每个班分 6 个球。

球类	排球	足球
数量	15 个	21 个

3. 猴妈妈买来 20 个桃子,给猴爸爸留下了 2 个,余下的平均分给 3 个猴宝宝,每个猴宝宝可以分到几个桃子?(5 分)

【答案】 $(20-2)\div 3=6$ (个)

答:每个猴宝宝可以分到 6 个桃子。

4. 购物。(6 分)



28元/个



3元/个



7元/个



18元/副

- (1) 买 1 个篮球和 6 个羽毛球一共要花多少钱?

【答案】 $28+6\times 3=46$ (元)

答:买 1 个篮球和 6 个羽毛球一共要花 46 元钱。

- (2) 小明有 50 元钱,买了 5 个毽子,剩下的钱买羽毛球,能买多少个?

【答案】 $(50-5\times 7)\div 3=5$ (个)

答:能买 5 个羽毛球。

5. (创新题)丽丽和明明平均分了一盒 60 粒的糖果,丽丽每天吃 5 粒,明明每天吃 3 粒,4 天后都有剩余。(6 分)

【答案】 $60\div 2=30$ (粒)

丽丽: $30-5\times 4=10$ (粒)

明明: $30-3\times 4=18$ (粒) $10<18,18-10=8$ (粒)

答:明明剩下的多,多 8 粒。

谁剩下的多?多多少粒?

